

锦江区 2017—2018 学年度下期小学一年级数学 终结性评价

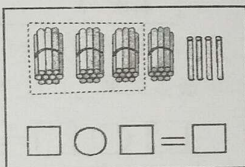
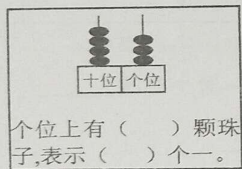
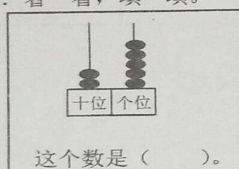
(考试时间: 50 分钟)

等级

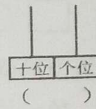
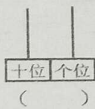
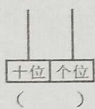
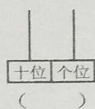
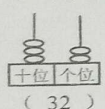
班级 _____ 姓名 _____

一、我会填空。

1. $15-8=7$ 中, 被减数是 (), 减数是 (), 差是 ()。
2. 49 里面有 () 个十和 () 个一; 8 个十和 3 个一是 ()。
3. 95 后面连续的 5 个数是 (), (), (), (), ()。
4. 计算 $80-30=?$ 可以看作是 () 个十减 () 个十得 () 个十, 是 ()。
5. 用计数器计算 $36+20$, 拨出 36 后, 要在 () 位再拨 2 颗珠子。
6. 看一看, 填一填。



7. 在计数器上拨 5 颗珠子, 可以表示什么数? 画一画, 写一写。



二、我会计算。

1. 直接写出得数。

$100-2=$	$15-9=$	$46+8=$	$37+42=$
$4+55=$	$37+37=$	$99-67=$	$89-72=$
$71+12=$	$100-50=$	$40+54=$	$58-30=$
$45-14=$	$22+45=$	$78-48=$	$27+53=$

2. 在 \bigcirc 里填 “ $>$ ”、“ $<$ ” 或 “ $=$ ”。

$37 \bigcirc 41$	$60 \bigcirc 32+38$	$100-54 \bigcirc 100-55$
$41+38 \bigcirc 38+41$	$29-13 \bigcirc 29+13$	$90-8 \bigcirc 80+8$

—数(终)—1

3. 用竖式计算。

$41+19=$

$56-27=$

$100-43=$

$36+59=$

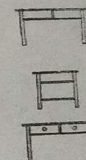

$70-48=$

$55+26=$


- 三、我会判断。(正确的画 \checkmark , 错误的画 \times 。)

1. 99 是最大的两位数。()
2. 66 十位上的 6 和个位上的 6 表示的一样多。()
3. 七巧板里没有长方形。()
4. 一个加数是 40, 另一个加数是 10, 和是 50。()
5. 比 42 少 10 的数是 32。()

- 四、我会观察。分别是谁看到的? 在右面连一连。



- 五、我会画图形。在点子图上画一个长方形, 一个正方形和一个三角形。



—数(终)—2

六、我会选择。(把正确答案的序号填在括号里。)

1. 右图中有()个○。



- ① 6 ② 5 ③ 4

2. 农场里有小兔 20 只, 小羊的只数比小兔多得多, 小羊可能有()只。

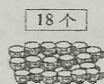
- ① 12 ② 25 ③ 70

3. 一个文具盒 11 元, 小聪付给售货员阿姨 20 元, 应找回()元。

- ① 10 ② 9 ③ 30

4. 把茶杯全部放进纸箱里, 能装得下吗? 我认为()。

- ① 装得下
② 装不下
③ 无法确定




5. 东东有 47 本漫画书, 小明的漫画书和东东的差不多。小明可能有()本。

- ① 40 ② 46 ③ 90

七、我会解决问题。

1. 河里有一群鸭, 大鸭子有 18 只, 小鸭子比大鸭子多 19 只, 小鸭子有多少只?



$$\square \bigcirc \square = \square \text{ (只)}$$

答: 小鸭子有_____只。

2. 集邮。

我有 100 张。

我比欢欢少 16 张。



欢欢



乐乐

乐乐有多少张邮票?

$$\square \bigcirc \square = \square \text{ (张)}$$

答: 乐乐有_____张邮票。

3.

			合 计
33 元	29 元	?	91 元

① 足球和小汽车一共_____元。 $\square \bigcirc \square = \square \text{ (元)}$

② 雨伞_____元。 $\square \bigcirc \square = \square \text{ (元)}$

4. 下面是跳绳成绩记录表。

跳绳成绩记录表

姓名	淘气	笑笑	奇思	妙想
成绩	32 下	100 下	79 下	96 下
名次				

① 把他们的名次排出来, 填在表中。

② 最多的跳_____下, 最少的跳_____下, 相差_____下。

$$\square \bigcirc \square = \square \text{ (下)}$$

③ 第二名比第三名多跳_____下。

$$\square \bigcirc \square = \square \text{ (下)}$$

※智力挑战!

1. 填一填。

$$\square \bigcirc \square = 15$$

$$\square \bigcirc \square = 15$$

$$\square \bigcirc \square = 15$$

$$12 = \square \bigcirc \square$$

$$12 = \square \bigcirc \square$$

$$12 = \square \bigcirc \square$$

2. 想一想, 填一填。

$$\begin{array}{r} 9 \\ + 2 \\ \hline 86 \end{array}$$

$$\begin{array}{l} \text{○} = () \\ \text{●} = () \end{array}$$